



7º ROTEIRO DE ATIVIDADES COMPLEMENTARES DE ESTUDO - COVID 19
1º AVALIAÇÃO DO 1º TRIMESTRE

ESCOLA MUNICIPAL SÃO FERNANDO

PROFESSORA: NUBIA

TURMA: EJA ETAPA 1

COMPONENTES CURRICULARES: LÍNGUA PORTUGUESA, MATEMÁTICA E ESTUDOS DA NATUREZA E SOCIEDADE.

PERÍODO DE REALIZAÇÃO: 12 A 16 DE ABRIL.

ALUNO(A): _____

NÚMERO DE TELEFONE: _____

ENDEREÇO: _____

<p>QUE VAMOS ESTUDAR?</p>	<ul style="list-style-type: none"> ➤ LÍNGUA PORTUGUESA: VOGAIS E CONSOANTES; SÍLABAS, ESCRITA DE PALAVRAS, LEITURA E INTERPRETAÇÃO. ➤ MATEMÁTICA: TABELAS E GRÁFICOS. ➤ ESTUDOS DA NATUREZA E SOCIEDADE: IDENTIDADE E DOCUMENTOS PESSOAIS.
<p>PARA QUE VAMOS ESTUDAR ESSES CONTEÚDOS?</p>	<ul style="list-style-type: none"> ➤ LÍNGUA PORTUGUESA: RETOMADA DAS VOGAIS E CONSOANTES; TRABALHAR A SEGMENTAÇÃO DE SÍLABAS, POSSIBILITANDO ASSIM A ESCRITA DE PALAVRAS; LEITURA E INTERPRETAÇÃO DE DIFERENTES GÊNEROS TEXTUAIS (POEMA, TEXTO INFORMATIVO, ETC.). ➤ MATEMÁTICA: COLETA E ORGANIZAÇÃO DE DADOS E INFORMAÇÕES; LEITURA E INTERPRETAÇÃO DAS INFORMAÇÕES APRESENTADAS EM TABELAS E GRÁFICOS. ESTUDOS DA NATUREZA E SOCIEDADE: A IDENTIDADE DO ALUNO; FATOS SIGNIFICATIVOS DA VIDA PESSOAL; DOCUMENTOS DE IDENTIFICAÇÃO PESSOAL E SUAS UTILIDADES.
<p>COMO VAMOS ESTUDAR ESSES CONTEÚDOS?</p>	<p>COM AJUDA DE ALGUM FAMILIAR ORGANIZE UM AMBIENTE TRANQUILO. FIQUE ATENTO ÀS EXPLICAÇÕES DADAS PELAS PROFESSORAS NO WHATSAPP. ORGANIZE-SE COM AS ATIVIDADES PARA NÃO ACUMULAR. SE TIVER DÚVIDA PERGUNTE NO WHATSAPP PARA A PROFESSORA PARA NOVA EXPLICAÇÃO.</p>
<p>COMO VAMOS REGISTRAR O QUE APRENDEMOS?</p>	<p>BUSCANDO ATIVIDADES IMPRESSAS NA ESCOLA. LENDO E PREENCHENDO DE ACORDO COM AS ORIENTAÇÕES DAS ATIVIDADES ENVIADAS, SEM DEIXAR NADA EM BRANCO OU INCOMPLETO. OUVINDO ATENTAMENTE AS EXPLICAÇÕES QUE A PROFESSORA ENVIA PELO WHATSAPP E CHAMANDO QUANDO NÃO ENTENDER OU NÃO CONSEGUIR FAZER AS ATIVIDADES. DEVOLVENDO AS ATIVIDADES SEMANALMENTE PARA QUE A PROFESSORA FAÇA AS CORREÇÕES NECESSÁRIAS.</p>

ESCOLAMUNICIPALSÃOFERNANDO.

ROLÂNDIA,12DEABRILDE2021.

HOJE ÉSEGUNDA-FEIRA.

LÍNGUA PORTUGUESA

LEIA O TEXTO COM ATENÇÃO:

PIPOCA

ESTE É O PIPOCA.

PIPOCA É UM LINDO CAVALO.

ELE É GRANDE, ALTO E MARROM.

ELE FICA NA COLINA.

LÁ, PIPOCA GALOPA, GALOPA.

PIPOCA COME CAPIM.

ELE É MUITO ELEGANTE!



1) COMPLETE:

PIPOCA É UM LINDO

_____.

ELE FICA NA _____.

ELE É MUITO _____!

2) SEPARE AS PALAVRAS RETIRADAS DO TEXTO EM SÍLABAS E NUMERE-AS, CONFORME EXEMPLO.

A) CAPIM - CA - PIM

B) CAVALO - _____

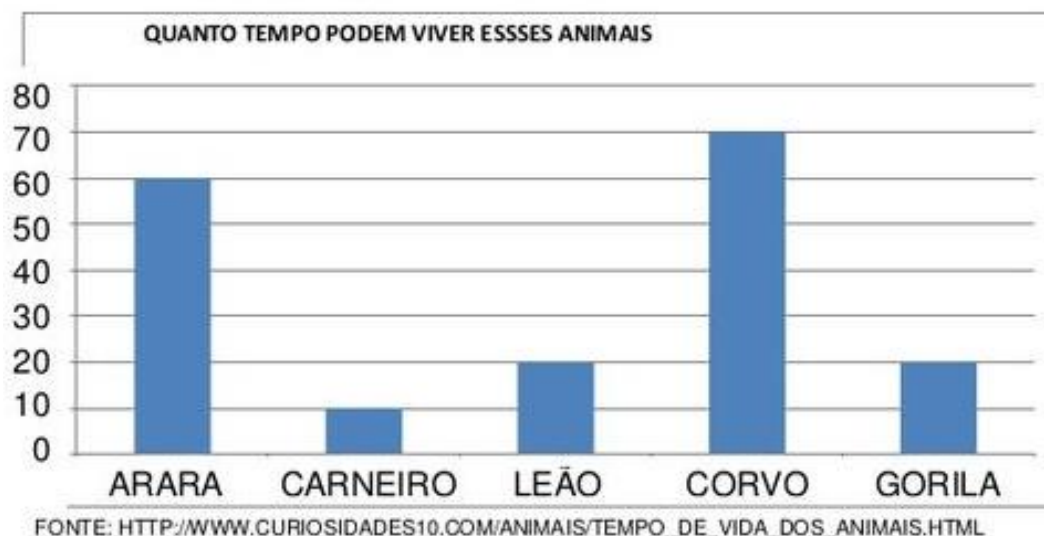
C) PIPOCA - _____

D) ELEGANTE - _____

MATEMÁTICA

OS **GRÁFICOS** SÃO RECURSOS UTILIZADOS PARA REPRESENTAR UM FENÔMENO QUE POSSA SER MENSURADO, QUANTIFICADO OU ILUSTRADO DE FORMA MAIS OU MENOS LÓGICA.OS **GRÁFICOS** APONTAM UMA DIMENSÃO ESTATÍSTICA SOBRE UM DETERMINADO FATO.

1) OBSERVE O GRÁFICO:



AGORA RESPONDA:

- A) QUAL ANIMAL VIVE MAIS TEMPO? _____.
- B) QUAL ANIMAL VIVE MENOS TEMPO? _____.
- C) QUANTOS ANOS VIVE O GORILA? _____.
- D) QUANTOS ANIMAIS SÃO CITADOS NO GRÁFICO? _____.

ESCOLA MUNICIPAL SÃO FERNANDO.

ROLÂNDIA, 13 DE ABRIL DE 2021.

HOJE É TERÇA-FEIRA.

LÍNGUA PORTUGUESA

1) JUNTE AS SÍLABAS FORMANDO PALAVRAS, OBSERVE OS EXEMPLOS:

SA — CO SACO
— LA _____
— PO _____

SI — NAL _____
— NO _____
— TIO _____

SA — LA-ME SALAME
— LA-DA _____
— PA-TO _____

SE — CO _____
— DE _____
— LO _____

SO — PA _____
— JA _____
— DA _____

SU — CO _____
— JO _____
— MIU _____

2) ESCREVA PALAVRAS QUE SE INICIAM COM AS SÍLABAS ABAIXO, SIGA O EXEMPLO:

CO COPO
COQUEIRO
COZINHA

PA _____

RO _____

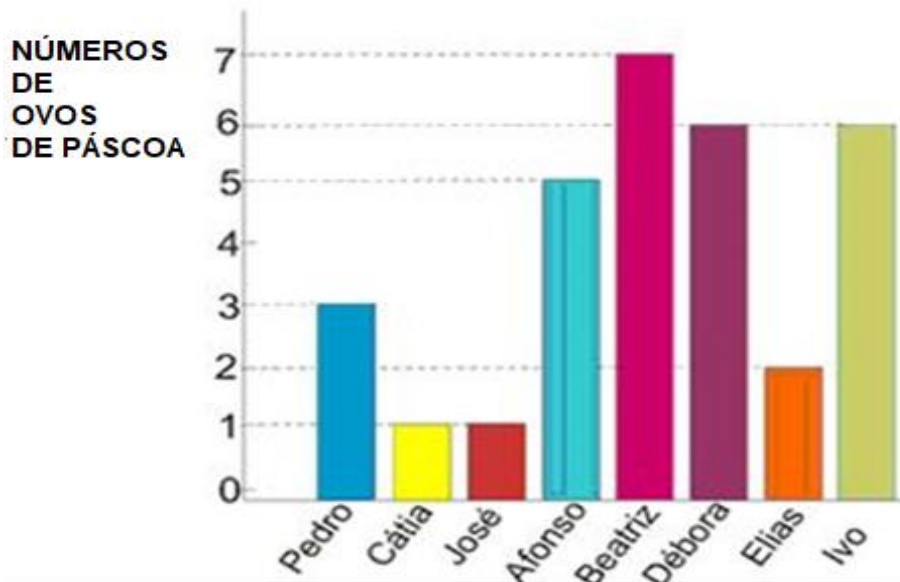
VA _____

SU _____

TE _____

MATEMÁTICA:

1) O GRÁFICO CORRESPONDE AO NÚMERO DE OVOS QUE AS CRIANÇAS GANHARAM NA PÁSCOA:



AGORA RESPONDA AS QUESTÕES:

A) QUAL CRIANÇA GANHOU MAIS OVOS DE PÁSCOA? _____.

B) QUAIS CRIANÇAS GANHARAM MENOS OVOS DE PÁSCOA? _____.

C) QUANTOS OVOS BEATRIZ E IVO GANHARAM JUNTOS? _____.

D) QUANTOS OVOS BETRIZ GANHOU A MAIS QUE DÉBORA _____.

ESCOLA MUNICIPAL SÃO FERNANDO.

ROLÂNDIA, 14 DE ABRIL DE 2021.

HOJE É QUARTA-FEIRA.

LÍNGUA PORTUGUESA

POEMA É UM TEXTO LITERÁRIO ESCRITO EM VERSOS, QUE SÃO DISTRIBUÍDOS EM ESTROFES. ESSE TIPO DE TEXTO PODE APRESENTAR DIVERSOS TIPOS DE RIMAS.

1) LEIA O TRECHO DO POEMA:

CIDADEZINHA QUALQUER

CARLOS DRUMMONT DE ANDRADE

CASAS ENTRE BANANEIRAS
MULHERES ENTRE LARANJEIRAS
POMAR AMOR CANTAR.

UM HOMEM VAI DEVAGAR
UM CACHORRO VAI DEVAGAR
UM BURRO VAI DEVAGAR.

DEVAGAR AS JANELAS OLHAM,
ETÂ VIDA BESTA, MEU DEUS.

A) ESTE TEXTO É:

() CONVITE () POEMA () RECEITA

B) QUAL É O TÍTULO DO POEMA?

() CIDADEZINHA QUALQUER.

() CIDADEZINHA GRANDE.

() CIDADEZINHA PEQUENA.

C) QUAL O ASSUNTO DO POEMA?

- () FALAR DE JANELAS.
- () FALAR DE BANANEIRAS.
- () FALAR DE UMA CIDADEZINHA.

D) QUAL O NOME DO AUTOR DO POEMA? _____.

E) COMPLETE OS VERSOS COM AS PALAVRAS DO POEMA:

CASAS ENTRE _____.

MULHERES ENTRE _____.

UM HOMEM VAI _____.

ESTUDOS DA NATUREZA E SOCIEDADE: DOCUMENTOS PESSOAIS.

DOCUMENTOS PESSOAIS SÃO UM DIREITO DO SER HUMANO. TODO CIDADÃO DEVE POSSUIR OS DOCUMENTOS PESSOAIS QUE SÃO DE CADASTRAMENTO OBRIGATÓRIO PARA QUE SE POSSA SER TIDO COMO CIDADÃO NA SOCIEDADE EM QUE VIVE. OS DOCUMENTOS PESSOAIS SÃO EXIGIDOS SEMPRE QUE É PRECISO SE IDENTIFICAR; PARA FAZER VESTIBULARES, MATRÍCULAS, NA HORA DE ABRIR UMA CONTA EM UMA INSTITUIÇÃO BANCÁRIA, DE VIAJAR, ETC. POR ISSO É VITAL A IMPORTÂNCIA DOS DOCUMENTOS PESSOAIS.

1) OBSERVE O ESQUEMA DOS DOCUMENTOS PESSOAIS.



2)QUAIS DELES VC POSSUI? ESCREVA NAS LINHAS ABAIXO:

3)QUAL FOI O SEU PRIMEIRO DOCUMENTO?

4)POR QUE É IMPORTANTE SEMPRE ANDAR COM OS DOCUMENTOS PESSOAIS?

**ESCOLA MUNICIPAL SÃO FERNANDO.
ROLÂNDIA, 15 DE ABRIL DE 2021.**

HOJE É QUINTA-FEIRA.

LÍNGUA PORTUGUESA

O **TEXTO INFORMATIVO** É UM TEXTO EM QUE O ESCRITOR EXPÕE BREVEMENTE UM TEMA, FATO OU CIRCUNSTÂNCIA AO LEITOR.TRATA-SE DE UMA PRODUÇÃO TEXTUAL OBJETIVA, COM LINGUAGEM CLARA E DIRETA.TEM COMO OBJETIVO PRINCIPAL TRANSMITIR INFORMAÇÃO SOBRE ALGO.

1) ACOMPANHE A LEITURA DO TEXTO:

A CIDADE ONDE MORO SE CHAMA ROLÂNDIA, POSSUI EM TORNO DE 67 MIL HABITANTES.
É UMA CIDADE DE MÉDIO PORTE E CONSIDERADA TRANQUILA. ESTÁ LOCALIZADA NA REGIÃO NORTE DO PARANÁ E PRÓXIMA DA CIDADE DE LONDRINA,

A) ESSE TEXTO FALA DE QUAL CIDADE?_____.

B) ROLÂNDIA FICA NA REGIÃO _____ DO PARANÁ.

C) ESSE TEXTO TEM OBJETIVO DE :

() INFORMAR. () CONVIDAR. () DIVERTIR.

2) ENCONTRE NO CAÇA PALAVRAS AS PALAVRAS CITADAS NO TEXTO INFORMATIVO.





-CIDADE
-ROLÂNDIA
-REGIÃO

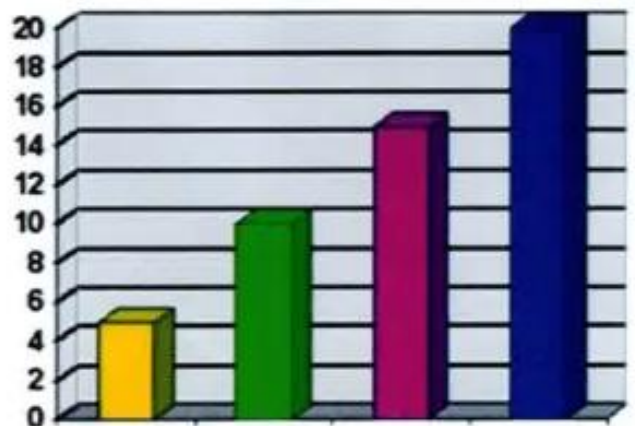
- PRÓXIMA
- PARANÁ
-MÉDIO

P	R	Ó	X	I	M	A	U	S	R
C	I	D	A	D	E	W	M	C	E
Ç	M	B	E	L	T	Q	É	E	G
L	E	K	V	H	J	Y	D	I	I
D	R	O	L	Â	N	D	I	A	Ã
P	A	R	A	N	Á	R	O	G	O

MATEMÁTICA

1) MARIA TRABALHA NA FEIRA DA CIDADE VENDENDO BOLOS. OBSERVE A LEGENDA E O GRÁFICO COM OS SABORES DOS BOLOS:

LEGENDA	
	FORMIGUEIRO
	CHOCOLATE
	PRESTÍGIO
	BRIGADEIRO



AGORA RESPONDA:

A)QUANTOS BOLOS DE CADA SABOR FORAM VENDIDOS:

FORMIGUEIRO	
CHOCOLATE	
PRESTÍGIO	
BRIGADEIRO	

B) QUANTOS BOLOS FORMIGUEIRO FORAM VENDIDOS A MAIS QUE PRESTÍGIO?

C) QUANTOS BOLOS BRIGADEIRO FORAM VENDIDOS A MAIS QUE CHOCOLATE?

D) QUANTOS BOLOS FORAM VENDIDOS NO TOTAL?

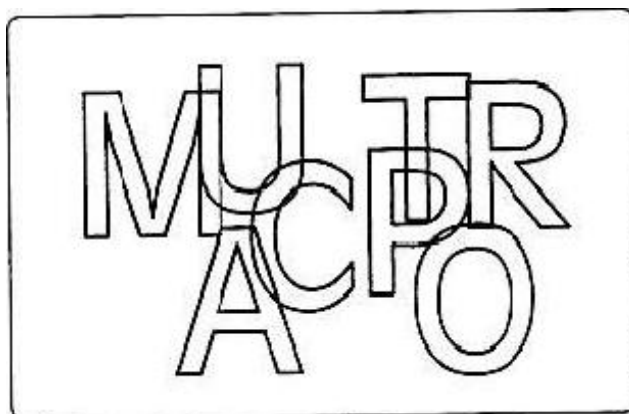
ESCOLA MUNICIPAL SÃO FERNANDO.

ROLÂNDIA, 16 DE ABRIL DE 2021.

HOJE É SEXTA-FEIRA.

LÍNGUA PORTUGUESA

1) DESCUBRA QUAIS AS LETRAS QUE ESTÃO ESCONDIDAS ABAIXO E ESCREVA-AS NO QUADRO CORRESPONDENTE:



CONSOANTES

VOGAIS

2) AGORA COMPLETE AS PALAVRAS ABAIXO COM AS LETRAS QUE VOCÊ DESCOBRIU:

CA____PO

____ONTA

C____SA

___ÁDIO

___ADARIA

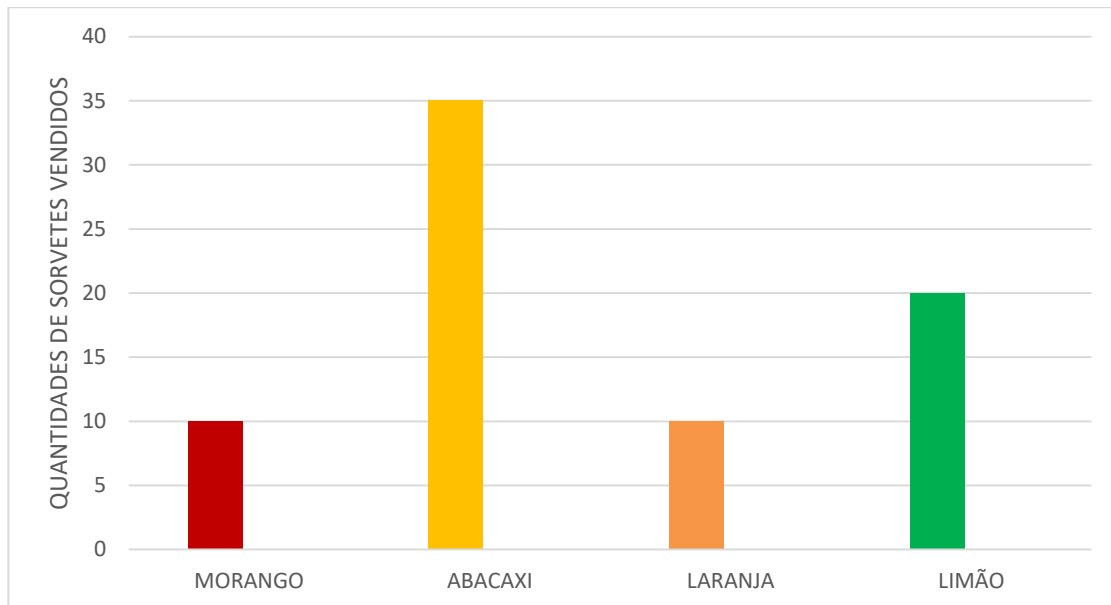
M___TO

R___A

___ELEFONE

MATEMÁTICA

1) O GRÁFICO ABAIXO MOSTRA A QUANTIDADE DE SORVETES VENDIDOS EM UMA SORVETERIA AO LONGO DA SEMANA:



2) DE ACORDO COM ESSE GRÁFICOM QUANTOS SORVETES DE LIMÃO FORAM VENDIDOS?

10 35 20

3)QUAIS SABORES FORAM VENDIDOS EM IGUAL QUANTIDADE? MARQUE UM X:

MORANGO ABACAXI LARANJA LIMÃO

4) QUANTOS SORVETES FORAM VENDIDOS DE TODOS OS SABORES NO TOTAL?

20 45 75

5) ESCREVA O NOME DOS SABORES DE SORVETES CITADOS DO GRÁFICO:
